

Funkce a polynomy

Petr Hasil

Přednáška z matematiky



1 Funkce

- Definice a pojmy

2 Polynomy

- Definice a operace s polynomy
- Kořeny polynomu
- Hornerovo schéma
- Racionální lomená funkce
- Lineární a kvadratický polynom

3 Příklady

4 Wolfram|Alpha

Definice

Nechť $D \neq \emptyset$, $D \subseteq \mathbb{R}$. Pravidlo f , které každému prvku $x \in D$ přiřadí právě jedno reálné číslo $y \in \mathbb{R}$, se nazývá *reálná funkce reálné proměnné*. Zapisujeme $y = f(x)$.

- Množina $D = D(f)$ se nazývá *definiční obor* funkce f .
- Množina všech $y \in \mathbb{R}$, pro která existuje $x \in D$ takové, že $f(x) = y$ se nazývá *obor hodnot* funkce f a značíme jej $H(f)$.
- x se nazývá *nezávisle proměnná* (argument) funkce f .
- y se nazývá *závisle proměnná* funkce f .
- Číslo $f(x_0) \in \mathbb{R}$ se nazývá *funkční hodnota* funkce f v bodě x_0 .

Poznámka

Není-li definiční obor funkce zadán, jedná se o množinu všech $x \in \mathbb{R}$ pro která má daná funkce smysl.

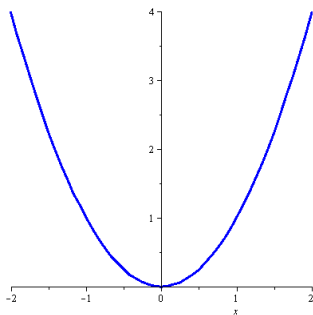
Příklad

- Definiční obor funkce $f(x) = \frac{1}{x-1}$ je $D(f) = \mathbb{R} \setminus \{1\}$.
- Definiční obor funkce $g(x) = \sqrt{-x}$ je $D(g) = (-\infty, 0]$.

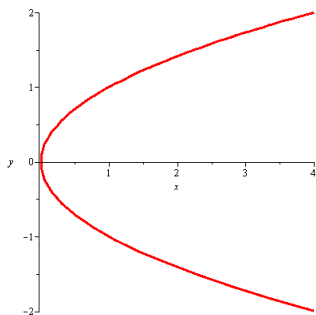
Definice

Množina všech bodů roviny daných souřadnicemi $[x, f(x)]$ se nazývá *graf funkce* f .

Příklad



Obr.: Funkce $f(x) = x^2$.



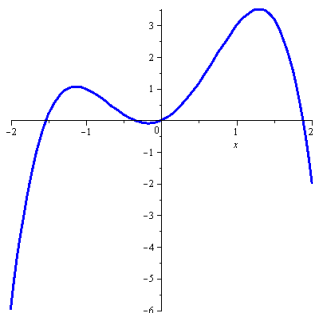
Obr.: Nejde o graf funkce.

Definice (Ohraničenost)

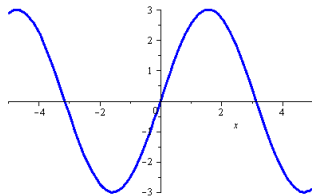
Bud' f funkce a $M \subseteq D(f)$. Řekneme, že funkce f je na množině M

- zdola ohraničená, jestliže existuje $d \in \mathbb{R}$ takové, že pro každé $x \in M$ platí $f(x) \geq d$,
- shora ohraničená, jestliže existuje $h \in \mathbb{R}$ takové, že pro každé $x \in M$ platí $f(x) \leq h$,
- ohraničená, jestliže existují $d, h \in \mathbb{R}$ takové, že pro každé $x \in M$ platí $d \leq f(x) \leq h$.

Příklad



Obr.: Funkce ohraničená shora.



Obr.: Ohraničená funkce.

Definice (Parita)

Bud' f taková funkce, že pro její definiční obor platí

$$x \in D(f) \Rightarrow -x \in D(f).$$

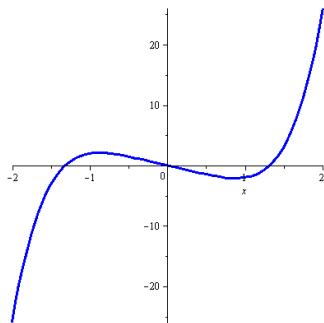
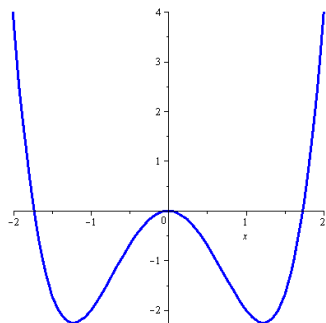
- Řekneme, že funkce f je sudá, jestliže pro $\forall x \in D(f)$ platí, že

$$f(-x) = f(x).$$

- Řekneme, že funkce f je lichá, jestliže pro $\forall x \in D(f)$ platí, že

$$f(-x) = -f(x).$$

Příklad



Obr.: Graf sudé funkce je symetrický podle osy y .

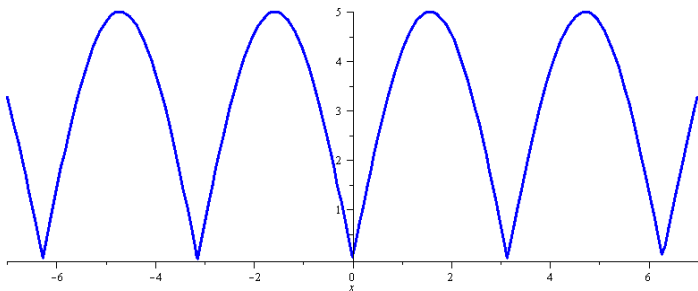
Obr.: Graf liché funkce je symetrický podle počátku.

Definice (Periodičnost)

Nechť $p \in \mathbb{R}, p > 0$. Řekneme, že funkce f je periodická s periodou p , jestliže pro $\forall x \in D(f)$ platí

$$x \pm p \in D(f), \quad f(x \pm p) = f(x).$$

Příklad



Obr.: Periodická funkce.

Definice

Bud' f funkce a $M \subseteq D(f)$. Řekneme, že funkce f je na množině M

- *rostoucí*, jestliže

$$\forall x_1, x_2 \in M : x_1 < x_2 \Rightarrow f(x_1) < f(x_2),$$

- *neklesající*, jestliže

$$\forall x_1, x_2 \in M : x_1 < x_2 \Rightarrow f(x_1) \leq f(x_2),$$

- *klesající*, jestliže

$$\forall x_1, x_2 \in M : x_1 < x_2 \Rightarrow f(x_1) > f(x_2),$$

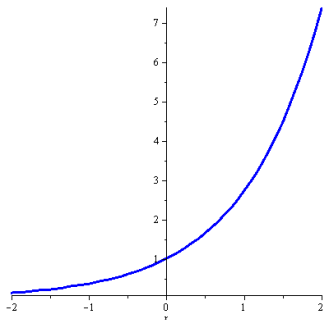
- *nerostoucí*, jestliže

$$\forall x_1, x_2 \in M : x_1 < x_2 \Rightarrow f(x_1) \geq f(x_2).$$

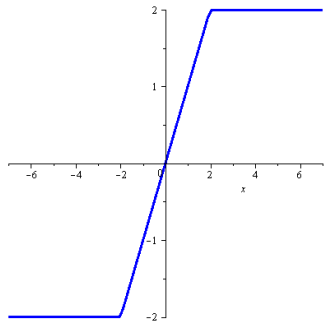
Definice

Je-li funkce f na množině M neklesající, nebo nerostoucí, nazýváme ji *monotónní*. Je-li funkce f na množině M rostoucí, nebo klesající, nazýváme ji *ryze monotónní*.

Příklad



Obr.: Rostoucí funkce.



Obr.: Neklesající funkce.

Další pojmy

Bud' f funkce a $M \subseteq D(f)$.

- Je-li $f(x) > 0$ pro $\forall x \in M$, řekneme, že f je na množině M *kladná*.
- Je-li $f(x) \geq 0$ pro $\forall x \in M$, řekneme, že f je na množině M *nezáporná*.
- Je-li $f(x) < 0$ pro $\forall x \in M$, řekneme, že f je na množině M *záporná*.
- Je-li $f(x) \leq 0$ pro $\forall x \in M$, řekneme, že f je na množině M *nekladná*.
- Bod $[0, f(0)]$ nazýváme *průsečík funkce f s osou y* .
- Je-li $f(x_0) = 0$, pak nazýváme bod $[x_0, 0]$ *průsečík funkce f s osou x* .

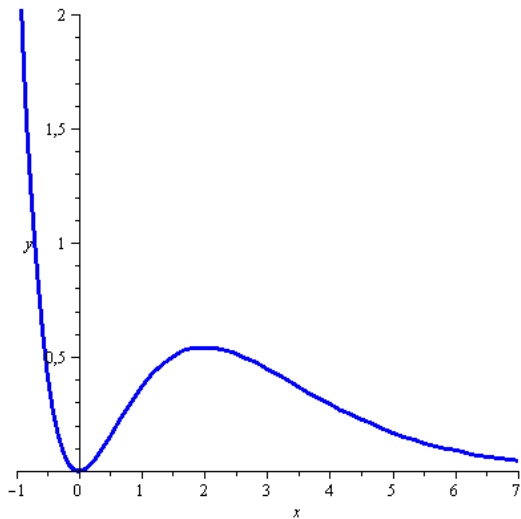
Následující pojmy budou přesněji definovány později

Bud' f funkce a $M \subseteq D(f)$.

- Je-li graf funkce f pro $\forall x \in M$ nad tečnou sestrojenou v libovolném bodě $x_0 \in M$, řekneme, že f je na množině M *konvexní*.
- Je-li graf funkce f pro $\forall x \in M$ pod tečnou sestrojenou v libovolném bodě $x_0 \in M$, řekneme, že f je na množině M *konkávní*.
- Přímku nazýváme *asymptotou* grafu funkce f , jestliže se její vzdálenost od grafu funkce s rostoucí souřadnicí neustále zmenšuje.

Příklad

Popište zobrazenou funkci pomocí dnes zmíněných pojmů.

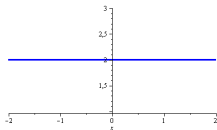


Definice (Polynom)

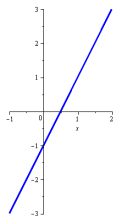
Funkci

$$P(x) = a_n x^n + a_{n-1} x^{n-1} + \dots + a_1 x + a_0,$$

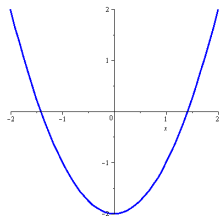
kde $a_0, \dots, a_n \in \mathbb{R}$, $a_n \neq 0$ nazýváme **polynom stupně n** . Čísla a_0, \dots, a_n nazýváme koeficienty polynomu P . Koeficient a_n nazýváme vedoucí koeficient, koeficient a_0 nazýváme absolutní člen. Je-li $a_n = 1$ říkáme, že polynom P je normovaný.



Obr.: $P(x) = 2$.



Obr.: $P(x) = 2x - 1$.



Obr.: $P(x) = x^2 - 2$.

Příklad (Operace s polynomy)

- Sčítání a násobení konstantou

$$\begin{aligned}(3x^2 - 2x + 4) - 2(x^3 + x^2 + 2x - 1) \\ &= 3x^2 - 2x + 4 - 2x^3 - 2x^2 - 4x + 2 \\ &= -2x^3 + x^2 - 6x + 6\end{aligned}$$

- Násobení

$$\begin{aligned}(2x^2 - 3)(x^3 + 2x + 3) \\ &= 2x^2(x^3 + 2x + 3) - 3(x^3 + 2x + 3) \\ &= 2x^5 + 4x^3 + 6x^2 - 3x^3 - 6x - 9 \\ &= 2x^5 + x^3 + 6x^2 - 6x - 9\end{aligned}$$

Příklad (Operace s polynomy)

- Dělení

$$\begin{aligned}
 & (4x^4 - x^3 + x^2 - 3x + 7) : (x^2 + 2) = 4x^2 - x - 7 + \frac{-x+21}{x^2+2} \\
 & - \underline{(4x^4 + 8x^2)} \\
 & \quad 0 - x^3 - 7x^2 - 3x + 7 \\
 & - \underline{(-x^3 - 2x)} \\
 & \quad 0 - 7x^2 - x + 7 \\
 & - \underline{(-7x^2 - 14)} \\
 & \quad 0 - x + 21
 \end{aligned}$$

Definice (Kořen polynomu)

Číslo $x_0 \in \mathbb{C}$, pro které platí $P(x_0) = 0$ nazýváme kořen polynomu P .

Věta

Je-li číslo $x_0 \in \mathbb{C}$ kořen polynomu P , pak existuje polynom $Q(x)$ takový, že

$$P(x) = (x - x_0)Q(x).$$

Definice (Kořenový činitel a násobný kořen)

Je-li číslo $x_0 \in \mathbb{C}$ kořen polynomu P , nazýváme lineární polynom $x - x_0$ **kořenový činitel** příslušný ke kořenu x_0 . Číslo x_0 je k -násobným kořenem polynomu P , jestliže existuje polynom $G(x)$ takový, že

$$P(x) = (x - x_0)^k G(x), \quad G(x_0) \neq 0.$$

Věta (Základní věta algebry)

Polynom stupně n má právě n komplexních kořenů.

Poznámka

- Je-li komplexní číslo $a + bi$, $a, b \in \mathbb{R}$, $b \neq 0$ kořenem polynomu P , pak je jeho kořenem i číslo komplexně sdružené $a - bi$.
- Počet reálných kořenů polynomu stupně n je buď n , nebo o sudý počet menší.
- Polynom lichého stupně má aspoň jeden reálný kořen.
- Polynomy jsou jediná kapitola, ve které budeme pracovat s komplexními čísly.

Věta (Rozklad na součin kořenových činitelů)

Každý polynom je v reálném oboru možné zapsat jako součin vedoucího koeficientu, kořenových činitelů a kvadratických polynomů s komplexními kořeny .

Věta (Celočíselné kořeny)

Nechť P je polynom s celočíselnými koeficienty. Pak jsou všechny jeho celočíselné kořeny dělitelé jeho absolutního člene.

Příklad

$$P(x) = x^4 - 5x^3 + x^2 + 21x - 18, \quad \text{tedy } a_0 = -18.$$

Všechny celočíselné kořeny jsou tedy mezi děliteli čísla -18 :

$$\pm 1, \pm 2, \pm 3, \pm 6, \pm 9, \pm 18.$$

Skutečně

$$P(x) = (x - 1)(x + 2)(x - 3)^2.$$

Hornerovo schéma je algoritmus používaný při rozkladu polynomu na součin kořenových činitelů.

Věta

Nechť jsou dány polynomy

$$P(x) = a_n x^n + a_{n-1} x^{n-1} + \dots + a_1 x + a_0,$$

$$Q(x) = b_{n-1} x^{n-1} + b_{n-2} x^{n-2} + \dots + b_1 x + b_0.$$

Jestliže existují $\alpha, b_{-1} \in \mathbb{R}$ takové, že

$$P(x) = (x - \alpha)Q(x) + b_{-1},$$

pak

$$b_{n-1} = a_n, \quad b_{k-1} = \alpha b_k + a_k, \quad k = 0, \dots, n-1.$$

Poznámka

$P(\alpha) = b_{-1}$, tedy je-li $b_{-1} = 0$, pak je α kořenem polynomu P .

Postup

Koeficienty polynomu $P(x) = a_n x^n + a_{n-1} x^{n-1} + \dots + a_1 x + a_0$ spolu s číslem α sepíšeme do tabulky

	a_n	a_{n-1}	\dots	a_1	a_0
α	b_{n-1}	b_{n-2}	\dots	b_0	b_{-1}

A dopočítáme čísla b_{n-1}, \dots, b_{-1} :

$$b_{n-1} = a_n, \quad b_{k-1} = \alpha b_k + a_k, \quad k = 0, \dots, n-1.$$

Tím získáme polynom $Q(x) = b_{n-1} x^{n-1} + b_{n-2} x^{n-2} + \dots + b_1 x + b_0$ a číslo b_{-1} takové, že platí

$$P(x) = (x - \alpha)Q(x) + b_{-1}.$$

Příklad

Rozložte polynom $P(x) = x^4 - 5x^3 + x^2 + 21x - 18$ na součin kořenových činitelů.

Celočíselné kořeny jsou mezi čísly $\pm 1, \pm 2, \pm 3, \pm 6, \pm 9, \pm 18$.

	1	-5	1	21	-18	
1	1	-4	-3	18	0	
1	1	-3	-6	12	-	
-1	1	-5	2	16	-	
2	1	-2	-7	4	-	
-2	1	-6	9	0	-	
⋮	⋮	⋮	⋮	-	-	

✓ Našli jsme kořeny $1, -2$.

✓ $Q(x) = x^2 - 6x + 9$

✓ $P(x) =$
 $(x - 1)(x + 2)Q(x)$

Příklad

Protože $Q(x)$ je kvadratický polynom, není nutné dál pokračovat v Hornerově schématu. Zbývající kořeny dopočítáme pomocí diskriminantu.

$$Q(x) = x^2 - 6x + 9 \Rightarrow D = 36 - 36 = 0 \Rightarrow x_{1,2} = \frac{6 \pm 0}{2} = 3$$

Tedy polynom P má dva jednoduché kořeny 1, -2 a jeden dvojnásobný kořen 3. Odtud

$$P(x) = (x - 1)(x + 2)(x - 3)^2.$$

Definice

Nechť je $P_n(x)$ polynom stupně n a $Q_m(x)$ nenulový polynom stupně m (tj. $Q_m(x) \neq 0$) a necht' tyto polynomy nemají společné kořeny. Funkci tvaru

$$R(x) = \frac{P_n(x)}{Q_m(x)}$$

nazýváme racionální lomená funkce. Navíc funkci $R(x)$ označujeme jako

- ryze lomenou, jestliže $n < m$,
- neryze lomenou, jestliže $n \geq m$.

Věta

Každou neryze lomenou funkci je možné (pomocí dělení polynomů) vyjádřit jako součet polynomu a ryze lomené racionální funkce.

Lineární polynom $P(x) = ax + b$

- Grafem je přímka ($y = ax + b$).
- Pro zakreslení určíme dva body, které ji jednoznačně určují.
- Koeficient a určuje rychlost růstu (sklon) přímky.
- Pokud je $a = 0$, jedná se o polynom stupně nula a grafem je vodorovná přímka (konstantní funkce).
- $a > 0$ znamená růst, $a < 0$ klesání.
- Koeficient b určuje „odskok“ od počátku ($b > 0$ nahoru, $b < 0$ dolů).
- Předpisu $y = ax + b$ říkáme směrnice (a je směrnice).
- Převedením všeho na jednu stranu a případným přenásobením rovnice získáme obecný tvar $\alpha x + \beta y + \gamma = 0$.
- Další možností zápisu je parametrický tvar
 $x = u_1 + v_1 p, y = u_2 + v_2 p$, kde $[u_1, u_2]$ je nějaký bod přímky, (v_1, v_2) je vektor směru přímky a $p \in \mathbb{R}$ je parametr.

Příklad

Jsou dány dva body $[1, 2]$, $[5, 3]$. Najděte směrnice, obecný a parametrický tvar přímky, která jimi prochází.

Začneme směrnice tvarem $y = ax + b$. Dosadíme do něj oba body, což vede na soustavu dvou rovnic o dvou neznámých $2 = a + b$, $3 = 5a + b$.

Neznámé a, b vypočítáme libovolným způsobem a zjistíme, že $a = \frac{1}{4}$, $b = \frac{7}{4}$. Směrnice tvar je tedy $y = \frac{1}{4}x + \frac{7}{4}$.

Obecný tvar obdržíme přímo ze směrnice jeho přenásobením číslem 4 ($4y = 1x + 7$) a úpravou na $x - 4y + 7 = 0$.

Pro parametrický tvar potřebujeme bod, použijme $[u_1, u_2] = [1, 2]$ a směrový vektor přímky. Ten získáme odečtením zadaných bodů

$$\begin{pmatrix} v_1 \\ v_2 \end{pmatrix} = \begin{pmatrix} 5 - 1 \\ 3 - 2 \end{pmatrix} = \begin{pmatrix} 4 \\ 1 \end{pmatrix}.$$

Výsledný tvar je tedy

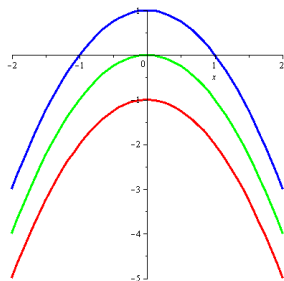
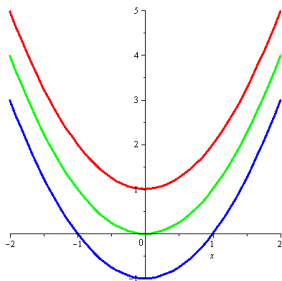
$$x = 1 + 4p,$$

$$y = 2 + 1p, p \in \mathbb{R}.$$

Všimněme si, že pro $p = 0$ dostaneme bod $[1, 2]$ a pro $p = 1$ bod $[5, 3]$. Pokud tedy omezíme parametr p jen na interval od 0 do 1, popisujeme tím úsečku mezi zadanými body.

Kvadratický polynom $P(x) = ax^2 + bx + c$

- $D = b^2 - 4ac$,
 - $x_{1,2} = \frac{-b \pm \sqrt{D}}{2a}$,
 - $P(x) = a(x - x_1)(x - x_2)$.
- $D > 0 \Rightarrow x_1 \neq x_2, x_{1,2} \in \mathbb{R}$,
 - $D = 0 \Rightarrow x_1 = x_2, x_{1,2} \in \mathbb{R}$,
 - $D < 0 \Rightarrow x_1 = \bar{x}_2, x_{1,2} \in \mathbb{C}$.



Obr.: $P(x) = ax^2 + bx + c, a > 0$. Obr.: $P(x) = ax^2 + bx + c, a < 0$.

Doplňení na čtverec

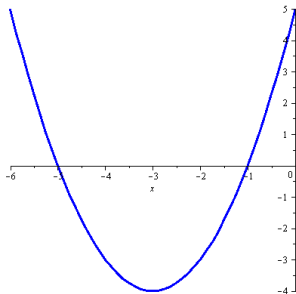
$$ax^2 + bx + c = a\left(x^2 + \frac{b}{a}x + \frac{c}{a}\right), \quad x^2 + px + q = \left(x + \frac{p}{2}\right)^2 - \frac{p^2}{4} + q.$$

$$y = x^2 + 6x + 5,$$

$$y = (x + 3)^2 - 9 + 5,$$

$$y = (x + 3)^2 - 4,$$

$$y + 4 = (x + 3)^2.$$



Tato parabola má vrchol v bodě $[-3, -4]$ a je otevřena směrem nahoru.

Příklad

Určete definiční obor dané funkce.

$$f(x) = \sqrt{1-x} + \frac{1}{x}, \quad g(x) = \frac{1}{\sqrt{1-x}} - \ln x.$$

Řešení:

$$D(f) = (-\infty, 0) \cup (0, 1], \quad D(g) = (0, 1).$$

Příklad

Najděte průsečíky grafu funkce f se souřadnými osami.

$$f(x) = \frac{(x-3)(x+5)}{x-1}.$$

Řešení:

- $f \cap x$: $[3, 0], [-5, 0]$,
- $f \cap y$: $[0, 15]$.

Příklad

Zjistěte, pro která x je daná funkce nezáporná.

$$f(x) = \frac{x^2 - 2x - 3}{1 - 3x}.$$

Řešení:

$$x \in (-\infty, -1] \cup (\frac{1}{3}, 3].$$

Příklad

Rozhodněte, zda je daná funkce sudá, nebo lichá.

$$f(x) = \frac{3x^2 - 2}{x^3}, \quad g(x) = \cos x - \sin x^2 - 2 \sin^2 x,$$

$$h_1(x) = x^3 + 2x^2 - x + 4, \quad h_2(x) = \ln(x - 3).$$

Řešení: Funkce f je lichá, g sudá a funkce h_1 a h_2 nejsou ani liché, ani sudé.

Příklad

Rozhodněte, zda je daná RLF ryze lomená, či nikoli. Pokud není, převed'te ji na součet polynomu a ryze lomené RLF.

$$R(x) = \frac{2x^4 + 3x^3 - 4x^2 + x - 5}{3x^3 - 2x + 1}.$$

Řešení:

$$R(x) = \frac{2}{3}x + 1 + \frac{-8x^2 + 7x - 18}{3(3x^3 - 2x + 1)}.$$

- Lineární kombinace polynomů. *

$$4(2x^3-x^2+5x+7)-5(x^4+3x^3-6x^2-x+15)$$

- Násobení polynomů. *

$$\text{expand } (x-3)(x+2)^2(x^2-x+1)$$

- Dělení polynomů. *

$$\text{quotient and remainder of } (x^5+3x^4-2x^3-5x^2+4x-1)/(2x^2+x-3)$$

- Rozklad na součin. *

$$\text{factor } x^5-8x^3-3x^2+4x-12$$

- Dosazení do polynomu. *

$$\{x^4+3x^3-6x^2-x+15, x=2\}$$

- Kořeny polynomu. * *

$$\begin{aligned} &\text{roots of } x^5+4x^4+x^3-2x^2-12x-72 \\ &\text{solve } x^5+4x^4+x^3-2x^2-12x-72=0 \end{aligned}$$

- Rovnice. *

$$\text{solve } x^4-3x^4+2(x^3-x+1)=5(x-4)(x^2-2)$$

- Nerovnice. *

$$\text{solve } (x^2+2x-3)/(x+1) \geq 0$$